

$$\begin{array}{r}
 \textcircled{1} \quad 3 \ 8 \ 2 \ \star \\
 + \quad 1 \ \Delta \ 6 \ 2 \\
 \star \ 9 \ 3 \ 6 \\
 8 \ 1 \ \star \ \Delta \\
 \hline
 1 \ 9 \ 6 \ 8 \ 0
 \end{array}$$

Complète l'addition.
Chaque signe correspond
toujours au même
chiffre.
★ =
△ =

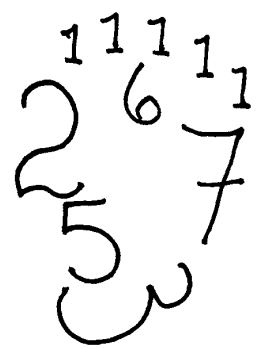

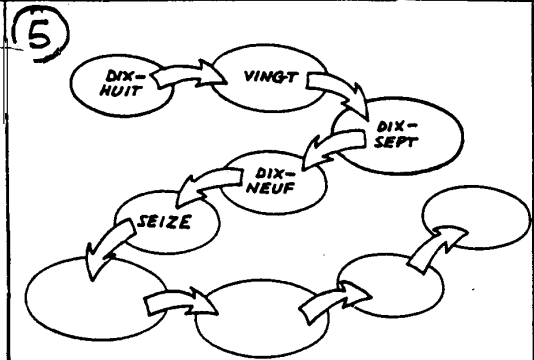


② Trouve les nombres
11-20.
Directions ← et →.
Les lettres qui
restent te donnent
rien.

③

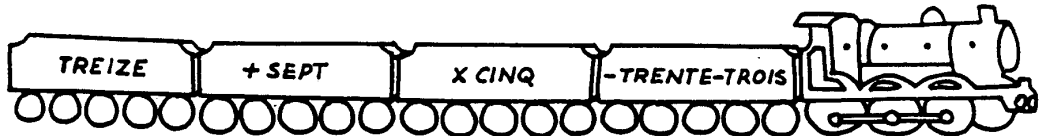
	quatre
	neuf
	deux
	onze
+	quatre
	six
	un
	?
	<u>quarante</u>

QUATORZE Z NI U Q T REIZE T PES X DOUZE E Z I E S

④ Totalise les visages :



⑥ QUEL EST LE NUMÉRO DE LA LOCOMOTIVE ?



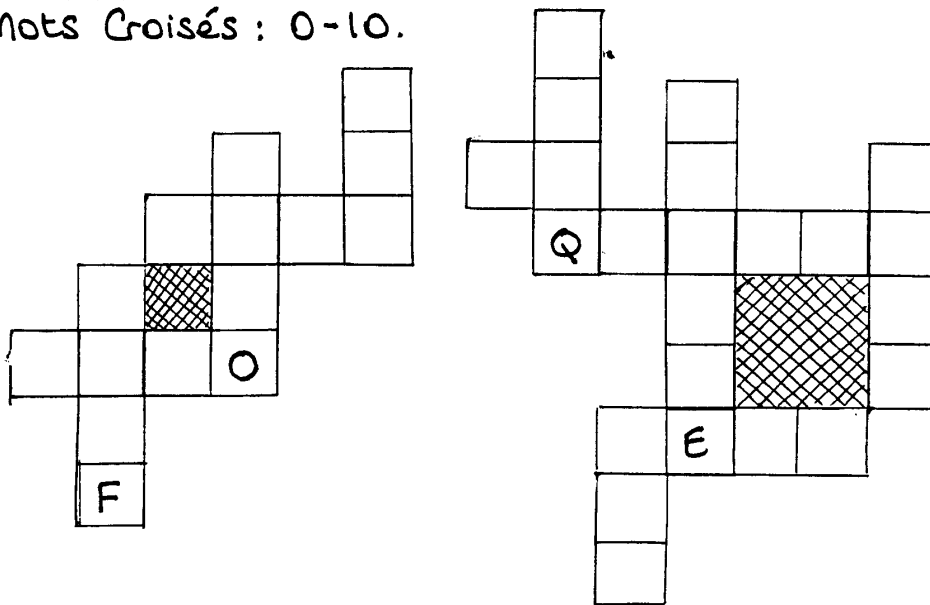
①

C	D	X	Y	V	S	E	I	Z	E	P	Q	R	V
J	E	T	R	E	I	Z	E	T	A	N	K	A	I
T	T	R	H	L	X	E	N	E	U	F	E	S	N
N	I	E	L	U	C	A	C	A	S	H	A	O	G
R	U	N	D	O	U	Z	E	R	Y	B	Q	I	T
R	H	T	O	Q	W	N	N	J	D	P	U	X	U
N	E	E	N	U	T	R	T	E	V	O	A	A	R
G	W	I	E	A	N	W	D	I	S	E	T	N	M
A	C	N	T	R	O	I	S	I	P	I	O	T	A
N	I	E	B	A	A	D	E	U	X	L	R	E	D
W	N	O	N	Z	E	P	N	T	E	Z	R	R	
Y	Q	U	A	T	R	E	T	M	C	D	E	O	W
E	L	L	A	E	B	C	D	Q	U	I	N	Z	E

Trouve ces chiffres dans la grille:

- 1 11 20
- 2 12 30
- 3 13 40
- 4 14 50
- 5 15 60
- 6 16 100
- 7
- 8
- 9
- 10

② Mots Croisés : 0-10.



③ + PLUS ÷ DIVISÉ PAR X MULTIPLIÉ PAR - MOINS

RÉPONDZ AUX QUESTIONS

1. NEUF + SIX, ÇA FAIT COMBIEN?
2. VINGT PLUS TRENTE, ÇA FAIT COMBIEN?
3. TREIZE PLUS DIX-NEUF, ÇA FAIT COMBIEN?
4. DOUZE MULTIPLIÉ PAR DEUX, ÇA FAIT COMBIEN?
5. SEIZE DIVISÉ PAR QUATRE, ÇA FAIT COMBIEN?

④ Complète la grille. Chaque colonne doit égaler 34.

3	13	10	8
12			15
5			2
14	4	7	9